


À quoi sert une banque ?

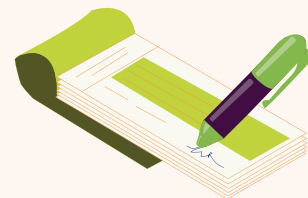
Partie 2 : À la découverte des services bancaires

Activités pour l'élève



1 - Phase d'observation

Document 1



Document 1 suite




Exercices

1. Une banque offre à ces clients plusieurs services. Retrouvez ces services en précisant ce que représente ou évoque chaque image. Vous indiquerez aussi le moyen de paiement évoqué.
2. Listez tous les moyens de paiement que vous avez identifiés grâce aux images
 -
 -
 -
 -
3. Où se trouve l'argent qui est utilisé par ces moyens de paiement ? D'où vient cet argent ?



2 - Le relevé de compte bancaire

Document 2

 Banque lafinancepourtous Agence Bourges Monnaie : 099999 1 rue de la Banque 100210 Cassette	RELEVÉ DE COMPTE du 1 ^{er} janvier au 31 janvier XXXX		
RIB : 00000 00000 000000000000 00 IBAN : FR00 0000 000 0000 0000 000 0000 BIC : BLFPXXXXXXXXX	M. Durand 1 rue des Cigales 100210 Cassette		
Monnaie du compte : euros			
Date	Opérations	Débit	Crédit
Solde précédent au 31 décembre XXXX			0,00
02/01	Salaire décembre		1 750,00
05/01	Loyer - Chèque N°8 673 453	610,00	
14/01	Virement EDF	80,00	
15/01	Retrait espèces carte bancaire 10h28	100,00	
15/01	Débit carte - Ontrouvetoutici	85,00	
16/01	Débit TUP - Impôts	72,00	
20/01	Virement CPAM		16,00
21/01	Débit carte - Ontrouvetoutici	92,00	
22/01	Retrait espèces carte bancaire 13h46	30,00	
22/01	Prélèvement Orange Abonnement internet	31,90	
22/01	Prélèvement Orange Abonnement mobile	19,90	
27/01	Débit carte - Ontrouvetoutici	89,00	
29/01	Débit carte - Restaurant	53,00	
30/01	Retrait espèces carte bancaire 17h12	50,00	
Total des opérations		1 312,80	1 766,00
Solde créditeur au 31 janvier XXXX			453,20

Exercices

1. Que représente la colonne « Crédit » ?
2. Que représente la colonne « Débit » ?
3. Quel est le montant des dépenses totales de M. Durand pour le mois de janvier ?
4. Que signifie « solde créditeur » ?
5. Retrouvez et citez tous les moyens de paiement utilisés sur le compte M. Durand, pour le relevé du mois de janvier.



3 - Phase d'analyse : Le mécanisme du débit et du crédit sur un compte courant

Exercice

Expliquez, en quelques phrases simples, ce qui se passe sur votre compte, et sur celui de votre opérateur de téléphonie mobile, quand le montant de l'abonnement est prélevé sur votre compte.

4 - Ce qu'il faut retenir

Exercice

Citez les principales fonctions d'une banque :

